



إِنْ أُرِيدُ إِلَّا  
الْإِصْلَاحَ مَا اسْتَطَعْتُ  
وَمَا تَوْفِيقِي إِلَّا بِاللَّهِ  
عَلَيْهِ تَوَكَّلْتُ وَإِلَيْهِ أُنِيبُ



..وقفة ..

محتويات المشروع حق محفوظ لفريق «معاً للقيمة»، ولا يجوز إنتاج أو نشر أو اقتصاص أي جزء من هذه المادة دون شعار المجموعة.





إهداء ..

إلى فريق العمل الذي آمن بالفكرة وشاركنا الفكر.. إلى الميدان التعليمي.



## فريق العمل في ملف الصف الأول الابتدائي :

فريق إعداد المادة العلمية/

أ/ فاطمة صالح محمد الكثيري

أ/موضي بنت علي إبراهيم النفجان

أ/نوف اذياب حمود المطيري

المراجعة وإعداد وتنسيق بطاقات المفردات/

أ/فايزة سيحان عيظه الزهراني



## فريق العمل في ملف الصف الأول الابتدائي :

### فريق التدقيق الفني /

أ/ أمل محمد إبراهيم الرايقي

أ/ حاتم محمد شرف حكيم

### التدقيق اللغوي /

أ/ أميمة أحمد محمد عابد

أ/ عامر محمد جابر الشهري

أ/ فرج جار الله الثقفي

أ/ سامي غتار الثقفي

الإشراف العام / أ. أمل محمد إبراهيم الرايقي



# مفردات منهج مادة الرياضيات

## الصف الأول

### المرحلة الابتدائية

#### الفصل الدراسي الأول






# الفصل الأول

# المقارنة والتصنيف



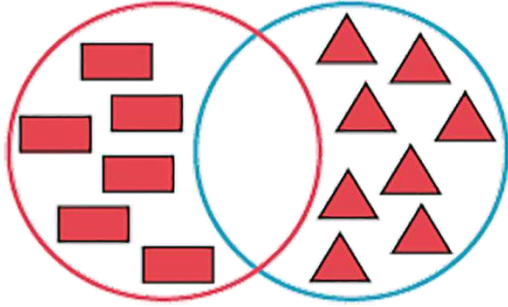
# التصنيف







التَّصْنِيفُ: هُوَ تَجْمِيعُ لِأَشْيَاءَ بَيْنَهَا صِفَاتٌ  
مُشْتَرَكَةٌ كَاللَّوْنِ وَالْحَجْمِ وَالشَّكْلِ وَغَيْرَهَا مِنْ الصِّفَاتِ.



فِي الصُّورَةِ الْمُقَابِلَةِ تَجْمَعُ أَشْيَاءَ وَفُقَ  
خَاصِيَّةِ الشَّكْلِ.

مَا الصِّفَاتُ الْمُشْتَرَكَةُ الْأُخْرَى الَّتِي يُمَكِّنُ تَصْنِيفُ الْأَشْيَاءِ  
وَفُقَهَا؟


تعريف  
المفردة

مثال

سؤال



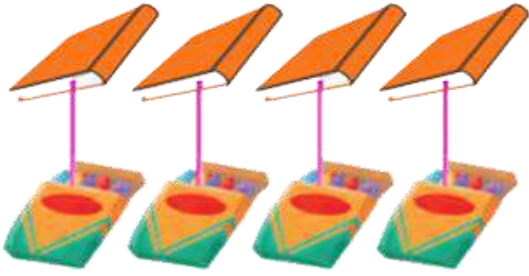
# يُسَاوِي





يُسَاوِي: هُوَ تَقَابُلٌ بَيْنَ مَجْمُوعَتَيْنِ فِيهَا الْعَدَدُ نَفْسُهُ مِنَ الْأَشْيَاءِ.

تعريف  
المفردة



عدد عناصرِ مَجْمُوعَةِ الْكُتُبِ تُسَاوِي عدد  
عناصرِ مَجْمُوعَةِ عُلْبِ الْأَلْوَانِ.


مثال

صِفْ نَوْعَ الْعِلَاقَةِ عِنْدَ تَقَابُلِ مَجْمُوعَتَيْنِ فِيهَا الْعَدَدُ نَفْسُهُ مِنَ  
الْأَشْيَاءِ.

سؤال



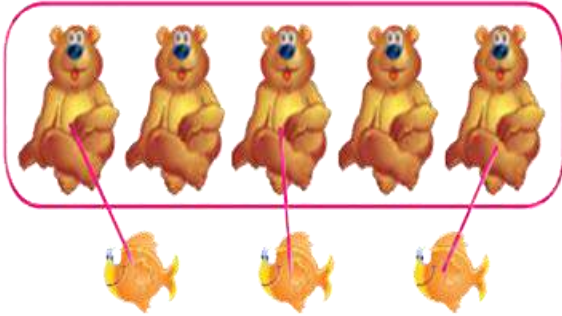
# أَكْثَرُ مِنْ





أَكْثَرُ مِنْ: مُقَابِلَةٌ بَيْنَ مَجْمُوعَتَيْنِ بِحَيْثُ يَكُونُ عَدَدُ عَنَاصِرِ  
مَجْمُوعَةٍ أَكْثَرَ مِنْ عَدَدِ عَنَاصِرِ الْمَجْمُوعَةِ الْأُخْرَى.

تعريف  
المفردة



عدد عناصر مجموعة الدببة أكثر  
من عدد عناصر مجموعة الأسماك.

مثال


حدد المجموعة التي عدد عناصرها (أكثر من) عدد  
عناصر المجموعة الأخرى.

سؤال





# أَقَلُّ مِنْ



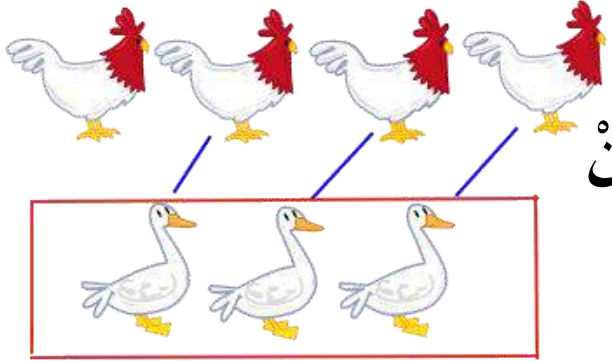
أَقَلُّ مِنْ ←





أقلُّ من: مُقَابِلَةٌ بَيْنَ مَجْمُوعَتَيْنِ بِحَيْثُ يَكُونُ عَدَدُ عَنَاصِرِ  
مَجْمُوعَةٍ أَقَلَّ مِنْ عَدَدِ عَنَاصِرِ الْمَجْمُوعَةِ الْأُخْرَى.

تعريف  
المفردة



عَدَدُ عَنَاصِرِ مَجْمُوعَةِ الْبَطِّ أَقَلُّ مِنْ  
عَدَدِ عَنَاصِرِ مَجْمُوعَةِ الدَّجَاجِ.

مثال

حدِّدْ المجموعة التي عددُ عناصرها (أقل من) عددِ  
عناصرِ المجموعة الأخرى.

سؤال

