



إِنْ أُرِيدُ إِلَّا  
الْإِصْلَاحَ مَا اسْتَطَعْتُ  
وَمَا تَوْفِيقِي إِلَّا بِاللَّهِ  
عَلَيْهِ تَوَكَّلْتُ وَإِلَيْهِ أُنِيبُ



..وقفة..

محتويات المشروع حق محفوظ لفريق «معاً للقيمة»، ولا يجوز إنتاج أو نشر أو اقتصاص أي جزء من هذه المادة دون شعار المجموعة.





إهداء ..

إلى فريق العمل الذي آمن بالفكرة وشاركنا الفكر.. إلى الميدان التعليمي.



## فريق العمل في ملف الصف الثالث الابتدائي :

فريق إعداد المادة العلمية/

أ/ ليلي علي سعيد طجم

أ/ ابتسام سالم سلامه السناني

أ/ فائزة حسن عبدالله المالكي

المراجعة وإعداد وتنسيق بطاقات المفردات/

أ/ فائزة سيحان عيظه الزهراني



## فريق العمل في ملف الصف الثالث الابتدائي :

### فريق التدقيق الفني /

أ/ أمل محمد إبراهيم الرايقي

أ/ نعيمة فهد عبدالله الجريوي

أ/ حاتم محمد شرف حكيم

### التدقيق اللغوي /

أ/ وفاء علي رباح المزيني

أ/ أميمة أحمد محمد عابد

الإشراف العام / أ. أمل محمد إبراهيم الرايقي



# مفردات منهج مادة الرياضيات

## الصف الثالث

### المرحلة الابتدائية


### الفصل الدراسي الثاني



# الفصل الحادي عشر الْكَسُور



# الأنقسر







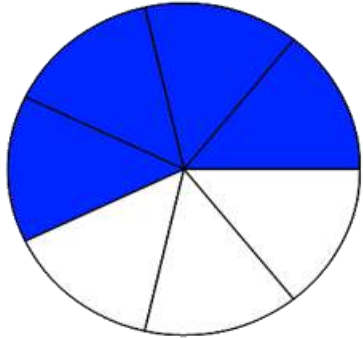
الكسْرُ: هُوَ عَدَدٌ يُمَثِّلُ جُزْءًا مِنْ كُلِّ، أَوْ جُزْءًا مِنْ مَجْمُوعَةٍ أَجْزَاءٍ مُتَطَابِقَةٍ.

تعريف  
المفردة



الكسْرُ الَّذِي يُمَثِّلُ الْجُزْءَ الْمُلَوَّنَ بِاللَّوْنِ الْأَصْفَرِ  
فِي هَذَا الشَّكْلِ هُوَ:  $\frac{2}{3}$

مثال




مَا الْكَسْرُ الَّذِي يُمَثِّلُ الْجُزْءَ الْمُلَوَّنَ بِاللَّوْنِ الْأَزْرَقِ  
فِي الشَّكْلِ الْمُقَابِلِ؟

سؤال



# الْبَسْطُ



البَسْطُ

5  
—  
7



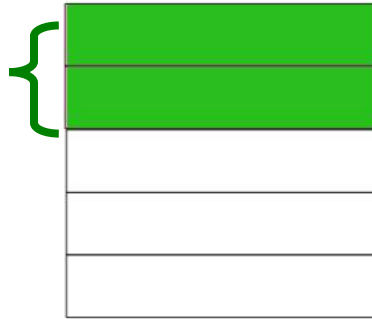
**البَسْطُ:** هُوَ الْعَدَدُ الْمَوْجُودُ فَوْقَ خَطِّ الْكَسْرِ، وَهُوَ ذَلِكَ الْجُزْءُ مِنْ الْكَسْرِ الدَّالِ عَلَى عَدَدِ الْأَجْزَاءِ الْمُسْتَعْمَلَةِ مِنَ الْأَجْزَاءِ الْمُتَطَابِقَةِ.

تعريف  
المفردة

الشَّكْلُ التَّالِي يُمَثِّلُ بِالْكَسْرِ

مثال

البسط  $\rightarrow \frac{2}{5}$   
 $\frac{2}{5}$  يُسَمَّى الْبَسْطُ، وَيَدُلُّ عَلَى عَدَدِ الْأَجْزَاءِ الْمَلَوَّنَةِ بِاللَّوْنِ الْأَخْضَرِ




$$\frac{1}{2}$$

أَكَلَ مُحَمَّدٌ نِصْفَ قِطْعَةٍ مِنَ الْحَلْوَى.  
 مَا الْعَدَدُ الَّذِي يُمَثِّلُ الْبَسْطَ.

سؤال



# المَقَام



$$\frac{5}{7}$$

المَقَام ←



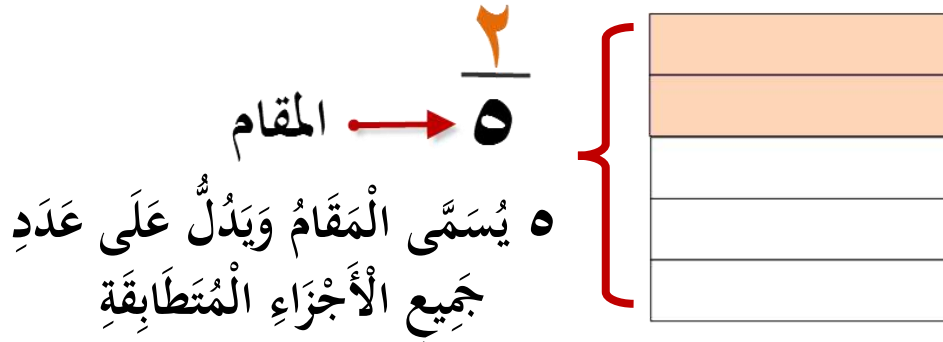


المَقَامُ: هُوَ العَدَدُ المَوْجُودُ أَسْفَلَ خَطِّ الكَسْرِ، وَيُمَثِّلُ عَدَدَ جَمِيعِ الأَجْزَاءِ المُتَطَابِقَةِ.

تعريف  
المفردة


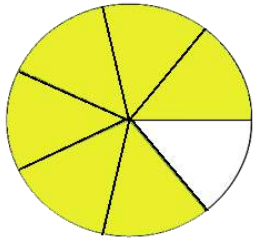
الشَّكْلُ التَّالِي يُمَثِّلُ بِالكَسْرِ

مثال



كَتَبَ أَحْمَدُ وَخَالِدُ الكَسْرَ الَّذِي يُمَثِّلُ الأَجْزَاءَ المُلَوَّنَةَ فِي الشَّكْلِ التَّالِي، أَيُّهُمَا كَانَتْ إِجَابَتُهُ صَحِيحَةً؟ مَعَ تَحْدِيدِ مَقَامِ الكَسْرِ الصَّحِيحِ.

سؤال





# الْكَسُورُ الْمُتَكَافِئَةُ



$$\frac{1}{3}$$

$$\frac{1}{4} \quad \frac{1}{4} \quad \frac{1}{4}$$

$$\frac{1}{3} \quad \frac{1}{3}$$

$$\frac{1}{4} \quad \frac{1}{4} \quad \frac{1}{4} \quad \frac{1}{4} \quad \frac{1}{4} \quad \frac{1}{4}$$

$$\frac{1}{3}$$
$$\frac{1}{4} \quad \frac{1}{4} \quad \frac{1}{4}$$



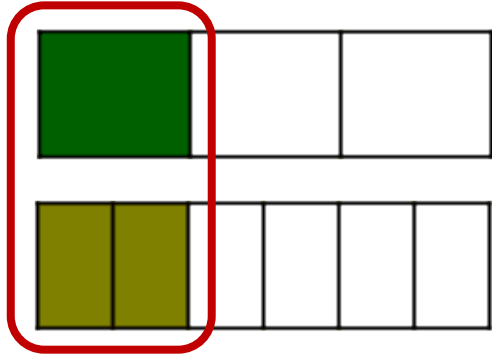
الكُسُورُ الْمُتَكَافِئَةُ: هِيَ الكُسُورُ الَّتِي لَهَا الْقِيَمَةُ نَفْسُهَا.

تعريف  
المفردة

نَقُولُ عَنِ الكُسْرَيْنِ  $\frac{1}{3}$  وَ  $\frac{2}{6}$  أَنَّهُمَا


كُسْرَانِ مُتَكَافِئَانِ لِأَنَّ لَهُمَا الْقِيَمَةَ نَفْسُهَا .

مثال



أَكْمِلِ الْجُمْلَةَ التَّالِيَةَ بِاسْتِعْمَالِ النَّمُودَجِ؛  
لِتَحْصُلَ عَلَى كُسْرَيْنِ مُتَكَافِئَيْنِ.

سؤال



$$\frac{\square}{4} = \frac{1}{2}$$